

A woman with dark hair is shown from the waist up, looking down and to her left. She is wearing a white sweater with a grey geometric pattern. Her right arm is raised, and she is holding a white knitted belt with a large square buckle. The background is a solid dark grey.

FRÁFARINGARROYND FÓLKASKÚLANS

Mai 2007

Støddfrøði

# GREIÐSLU- ROKNING

4. tímar



Sanna var inni hjá Guðrun og Guðrun og keypti sær:

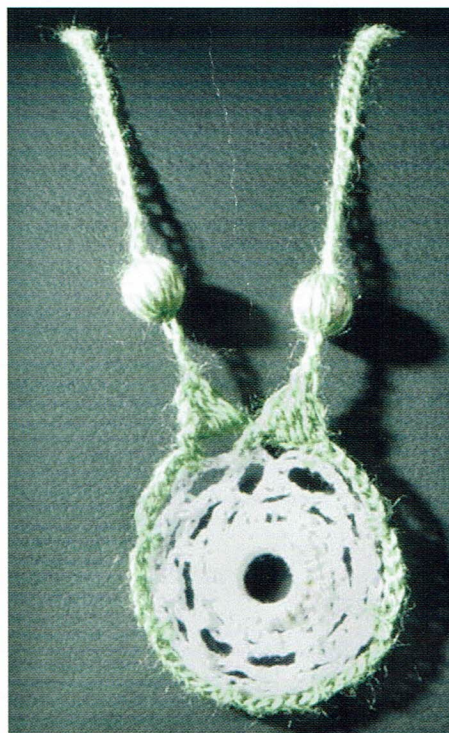
eitt belti fyri	550 kr
tríggjar hálsketur	150 kr fyri hvørja
eitt turriklæði fyri	350 kr
eina húgvu fyri	350 kr

a Hvussu nógv kostaði hetta henni?

Sanna hevði fingið 1000 kr frá mammu sínari.

b Hvussu nógv skuldi hon sjálv gjalda?

c Hvussu nógv prosent skuldi Sanna sjálv gjalda av øllum kostnaðinum?



Sanna hevði sera góðan hug á einari ávísari troyggju. Troyggjan kostaði 1500 kr í handlinum í Havn.


Hendan troyggjan kostaði 2200 kr í Danmark.

a Hvussu nógv kostaði hon meiri í Danmark enn í Føroyum?

b Hvussu nógv prosent kostaði hon meiri í Danmark enn í Føroyum?

Sanna bant sjálv eina líknandi troyggju fyri handlin, og hon brúkti 15 tímar at binda troyggjuna. Sanna fekk 900 kr (og tógvið) frá handlinum.

c Hvør var tímalønin hjá Sonnu at binda troyggjuna?



Ein niðurdeilur, bundin í Føroyum, kostar 950 kr.

Í Japan kostar hann tríggjar ferðir so nógv.

#### Gjaldoyrakursur

USA (dollarar - USD)	573,7000
Japan (yen - JPY)	4,7266

a Hvussu nógvar yen kostar niðurdeilurin í Japan?

Niðanfyri er talva, sum sigur miðalársinntøkuna hjá kvinnum og monnum í Føroyum og í Japan. Inntøkurnar eru í dollarum (USD).

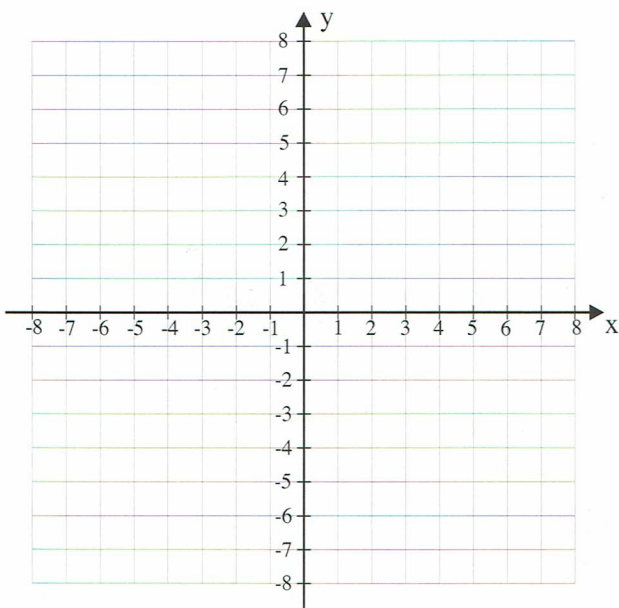
Miðalársinntøkan hjá kvinnum		Miðalársinntøkan hjá monnum	
	USD		USD
Føroyar	22 835	Føroyar	32 518
Japan	16 601	Japan	37 345

b Rokna miðalársinntøkuna hjá kvinnum í Føroyum og í Japan í okkara peningi.

c Hvussu nógvar prosent er miðalársinntøkan hjá monnum lægri í Føroyum enn í Japan?

## 4

## Forstykki



Sanna skuldi seyma sær ein kjóla. Hon teknaði fyrst forstykkið.

a Tekna hesi fyra punktini í eina krossskipan:  $A = (0,0)$ ;  $B = (4,1)$ ;  $C = (2,7)$ ;  $D = (0,8)$ .

b Spegla ferhyrningin ABCD um y-ásin, soleiðis at A fer í A, D fer í D, B fer í  $B_1$  og C fer í  $C_1$ .

c Hvussu nógvar puntar er víddin á sekshyrninginum (forstykkinum)  $B_1ABCDC_1$ .

## 5

## Túrur á súkklu og til gongu

Sanna og tvær vinkonur hennara súkklaðu ein túr úr Runavík yvir á Strendur at vitja á Snælduni. Teinurin, tær súkklaðu, er 26 km. Tað tók teimum 1 tíma og 18 minuttir at súkkla teinin.

a Hvør var miðalferðin?

Tær súkklaðu so til Morskranes. Við miðalferðini 20 km/t tók tað teimum 15 minuttir at súkkla teinin.



**b** Hvussu langur er teinurin av Strondum til Morskranes?

Av Morskranesi til Selatraðar eru 4 km. Tær gingu hendan teinin.

**c** Hvussu langa tíð tók tað teimum at ganga hendan teinin, um miðalferðin hjá teimum var 6 km/t?

**6**

**Stampur**

Høgrumegin er tekning av stampi (dánaður sum strýtustubbi) at vaska ull í (innaru mátini eru:

$r_m = 35$  cm,  $r_s = 40$  cm og  $h = 40$  cm).

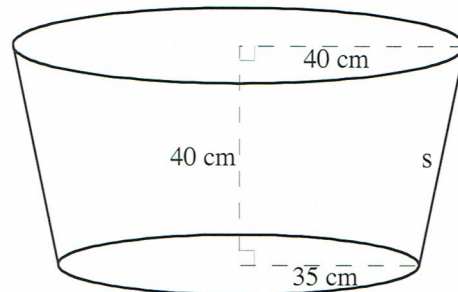
**a** Hvussu nógv litrar tekur stampurin?

Tómur vigar stampurin 42 kg.

**b** Hvussu nógv vigar hann við 120 litrum av vatni í?

Stampurin er málaður innan.

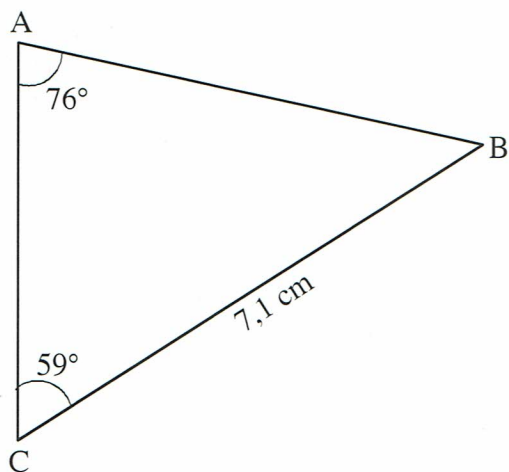
**c** Rokna víddina á málaða flatanum.



**7**

**Geometri og algebra**

**a** Loys líkningaheildina:  $y = x + 4$  og  $y = -\frac{1}{2}x + 1$



**b** Rokna longdina á síðuni c.

**c** Umstytt framsøgnina:  $2(a - \frac{1}{2}) - 3(a - \frac{1}{3})$