

Skrivlig próvtøka, 9. flokkur

Støddfrøði

**Greiðslu-
rokning**

November 2009

4 tímar



Ein fartelda hefur kostað 8340 kr, men í lýsing hjá telduhandlinum stendur, at hessa vikuna fæst hon fyri 7506 kr.

- a Hvussu nógv prosent er hon niðursett hessa vikuna?

1 Gb geymi	340 kr
Fløgubrennari	980 kr
10 flögur	360 kr

Telduhandilin lýsir eisini við bíligum geymum, fløgubrennarum og flögum, og Pætur atlar at keypa bæði teldu, geyma, fløgubrennara og 10 flögur.

- b Hvussu nógv kostar keypið honum?

Í einum øðrum telduhandli kostar tann sama farteldan 8170 kr.

- c Hvussu nógv prosent er hon dýrari í hesum telduhandlinum hessa vikuna?

- a Tekna ein sirkul, sum hevur miðdepil í $M = (-2, -5)$, og sum hevur radius 5 eindir, í eina krossskipan.

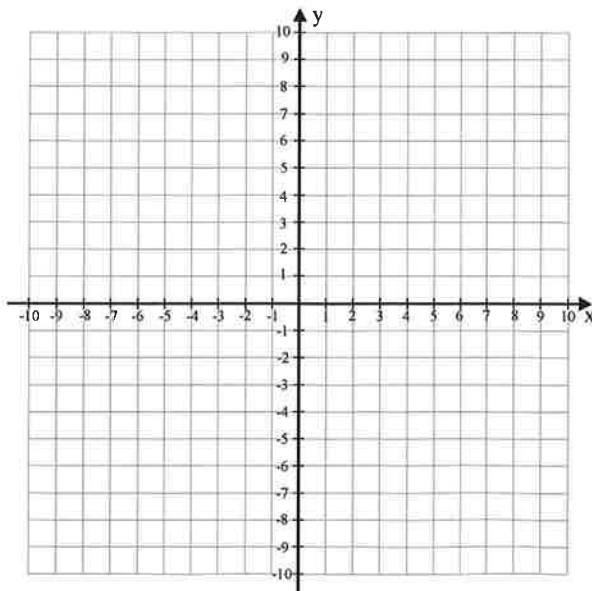
Ein linja n gongur ígjøgnum punktið M . Hon hevur halltalið $\frac{1}{2}$.

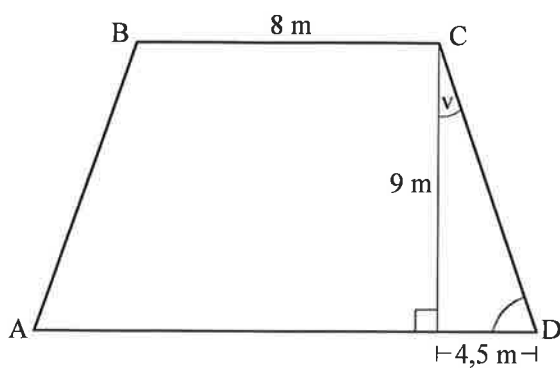
- b Tekna linjuna n .
c Skriva forskriftina hjá linjuni n .

Ein linja p hevur forskriftina

$$y = -2x + 6$$

- d Tekna linjuna p .
e Hvat kanst tú siga um linjurnar n og p ?





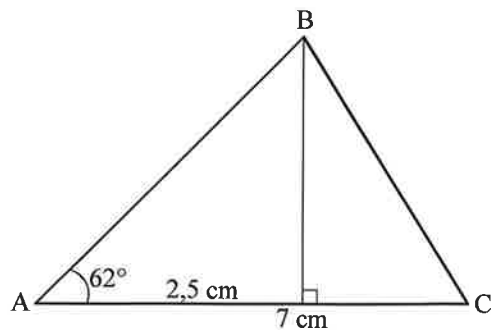
Eitt jarðarstykki er dánað sum eitt javnbeint trapets.

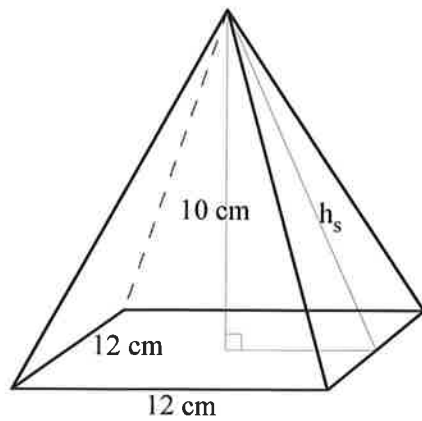
Mátini standa á tekningini vinstrumegin.

- a Rokna víddina á jarðarstykkinum.
- b Rokna longdina á síðuni CD.
- c Rokna stöddina á vinklinum D.
- d Rokna stöddina á vinklinum v.
- e Rokna stöddina á vinklinum B.

- a Set mest möguligt út um klombur: $4a^3 + 6a^4 - 2a^2$
- b Loys líkningina: $4(2 - x) + x^2 = x(x - 2) + 6$
- c Umstytt framsøgnina: $(b + 2)(b - 2) - 4(b - 1)^2$
- d Loys líkningaheildina: $y = 2x + 2$ og $y = -x + 8$

- e Neyvtekna tríkantin ABC.





Vinstrumegin er tekning av einari pyramídu, og nøkur mál eru á henni.

Pyramídan er gjørd úr aluminiumi, sum hevur evnisnøgðina $2,7 \text{ g/cm}^3$.

- a Rokna rúmdina á pyramíðuni.
- b Hvussu nógv kg vigar pyramídan?
- c Rokna longdina á hæddini í síðuflatanum h_s .